

Проверочная работа
по ИСТОРИИ

5 класс

Вариант 1

Инструкция по выполнению работы

На выполнение работы по истории даётся 45 минут. Работа состоит из двух частей и включает в себя 7 заданий. Часть 1 работы содержит задания по истории Древнего мира, в части 2 предложено задание, связанное с памятью народа России о Великой Отечественной войне.

Ответы на задания запишите в поля ответов в тексте работы. В случае записи неверного ответа зачеркните его и запишите рядом новый.

При выполнении работы не разрешается пользоваться учебником, рабочими тетрадями и другими справочными материалами.

При необходимости можно пользоваться черновиком. Записи в черновике проверяться и оцениваться не будут.

Советуем выполнять задания в том порядке, в котором они даны. В целях экономии времени пропускайте задание, которое не удаётся выполнить сразу, и переходите к следующему. Если после выполнения всей работы у Вас останется время, то Вы сможете вернуться к пропущенным заданиям.

Желаем успеха!

Заполняется учителем, экспертом или техническим специалистом

Обратите внимание: в случае, если какие-либо задания не могли быть выполнены целым классом по причинам, связанным с отсутствием соответствующей темы в реализуемой школой образовательной программе, в форме сбора результатов ВПР всем обучающимся класса за данное задание вместо балла выставляется значение «Тема не пройдена». В соответствующие ячейки таблицы заполняется н/п.

Таблица для внесения баллов участника

Номер задания	1	2	3	4	5	6	7	Сумма баллов	Отметка за работу
Баллы									

Часть 1


В этой части работы даны задания по истории Древнего мира.

Прочтите перечень из четырёх тем и выполните задания, относящиеся к этому перечню.

- Перечень тем**
- | | |
|-------------------|-------------------|
| А) Древняя Персия | Б) Древняя Греция |
| В) Древний Китай | Г) Древний Египет |

1

Каждая из иллюстраций, приведённых ниже, относится к одной из указанных в перечне тем. Установите соответствие между темами и иллюстрациями: к каждой теме подберите по одной иллюстрации.



Запишите в таблицу выбранные цифры под соответствующими буквами.

Ответ:

А	Б	В	Г

Перечень тем

А) Древняя Персия

Б) Древняя Греция

В) Древний Китай

Г) Древний Египет

2

Прочитайте отрывок из исторического источника и определите, к какой из данных тем он относится. В ответе напишите букву, которой обозначена эта тема.

«Установив области и назначив их управителей, Дарий приказал, чтобы подати поступали ему по народам; при этом он причислил к каждому из народов его ближайших соседей и, кроме того, пропуская непосредственных соседей, тот или другой из более отдаленных народов. Области же и ежегодное поступление податей он распределил сообразно следующим основаниям: тем из них, которые платили серебром, было сказано платить талант по вавилонскому весу, тем же, которые платили золотом, – по эвбейскому весу, вавилонский же талант равен семидесяти эвбейским минам. Ибо в правление Кира, а также и Камбиза не было установлено ничего относительно дани, но подданные приносили подарки; из-за этого же установления дани и других, близких к этому мероприятий, персы говорят, что Дарий был торгашом, Камбиз – деспотом, Кир же – отцом, первый – потому что вносил во все дела дух торгашества, другой – потому что был суров и высокомерен, третий же – потому что был кроток и предоставил им все блага».

Ответ:

Выберите одну тему из перечня, а затем выполните относящиеся к этому перечню задания только по выбранной Вами теме. Перед выполнением каждого из относящихся к перечню заданий укажите букву, которой обозначена выбранная тема. Указанные в заданиях буквы должны быть одинаковыми.

3

Выбранная тема: (укажите букву в перечне).

Прочитайте список слов (словосочетание) и напишите слово (словосочетание), относящееся к выбранной Вами теме.

Хуанхэ, Ветхий Завет, «неприкасаемые», акрополь, Осирис, сатрап.

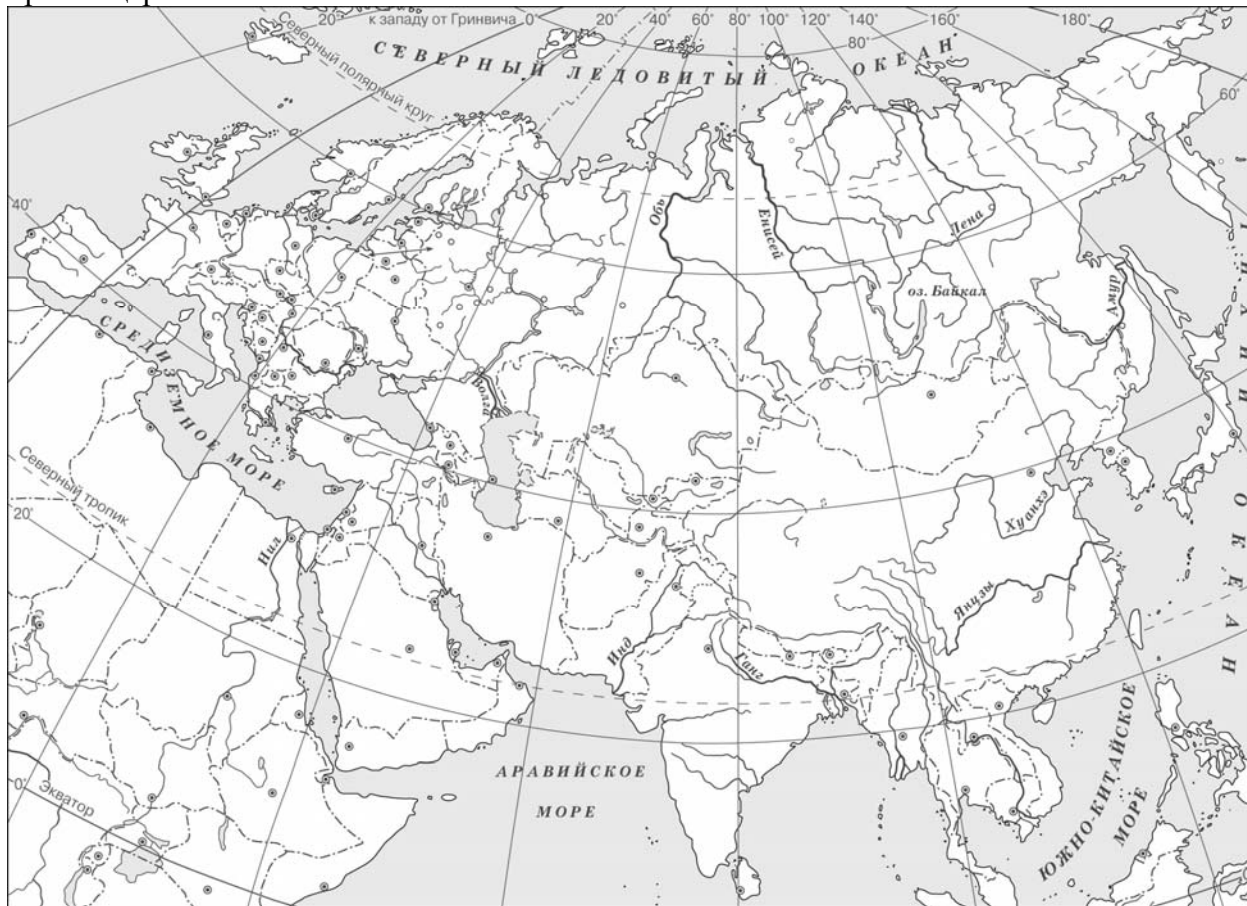
Ответ: _____

Объясните, что обозначает это слово (словосочетание).

Ответ: _____

5

Заштрихуйте на контурной карте один четырёхугольник, образованный градусной сеткой (параллелями и меридианами), в котором полностью или частично расположена страна, где правил царь Ашока.



6

Используя знания исторических фактов, объясните, как природно-климатические условия повлияли на занятия жителей страны, где правил царь Ашока.

Ответ: _____

**Проверочная работа
по ИСТОРИИ**

5 класс

Вариант 2

Инструкция по выполнению работы

На выполнение работы по истории даётся 45 минут. Работа состоит из двух частей и включает в себя 7 заданий. Часть 1 работы содержит задания по истории Древнего мира, в части 2 предложено задание, связанное с памятью народа России о Великой Отечественной войне.

Ответы на задания запишите в поля ответов в тексте работы. В случае записи неверного ответа зачеркните его и запишите рядом новый.

При выполнении работы не разрешается пользоваться учебником, рабочими тетрадями и другими справочными материалами.

При необходимости можно пользоваться черновиком. Записи в черновике проверяться и оцениваться не будут.

Советуем выполнять задания в том порядке, в котором они даны. В целях экономии времени пропускайте задание, которое не удаётся выполнить сразу, и переходите к следующему. Если после выполнения всей работы у Вас останется время, то Вы сможете вернуться к пропущенным заданиям.

Желаем успеха!

Заполняется учителем, экспертом или техническим специалистом

Обратите внимание: в случае, если какие-либо задания не могли быть выполнены целым классом по причинам, связанным с отсутствием соответствующей темы в реализуемой школой образовательной программе, в форме сбора результатов ВПР всем обучающимся класса за данное задание вместо балла выставляется значение «Тема не пройдена». В соответствующие ячейки таблицы заполняется н/п.

Таблица для внесения баллов участника

Номер задания	1	2	3	4	5	6	7	Сумма баллов	Отметка за работу
Баллы									

Часть 1

В этой части работы даны задания по истории Древнего мира.

Прочтите перечень из четырёх тем и выполните задания, относящиеся к этому перечню.

Перечень тем

А) Древний Египет

Б) Древняя Персия

В) Древний Китай

Г) Древняя Греция


1

Каждая из иллюстраций, приведённых ниже, относится к одной из указанных в перечне тем. Установите соответствие между темами и иллюстрациями: к каждой теме подберите по одной иллюстрации.

1)



2)



3)



4)



Запишите в таблицу выбранные цифры под соответствующими буквами.

Ответ:

А	Б	В	Г
<input type="text"/>	<input type="text"/>	<input type="text"/>	<input type="text"/>

Перечень тем

А) Древний Египет

Б) Древняя Персия

В) Древний Китай

Г) Древняя Греция

2

Прочитайте отрывок из исторического источника и определите, к какой из данных тем он относится. В ответе напишите букву, которой обозначена эта тема.

«При таком-то положении государства, когда большинство было в порабощении у немногих, народ восстал против знати. Когда восстание после продолжительной борьбы приняло острый характер, противники сообща избрали посредником и архонтом Солон и поручили ему управление государством... По происхождению и по известности Солон был среди первых, а по имуществу и по своей деятельности принадлежал к среднему разряду людей, как это признано другими, да и сам он свидетельствует об этом в своих элегиях, убеждая богачей не предаваться корысти».

Ответ:

Выберите одну тему из перечня, а затем выполните относящиеся к этому перечню задания только по выбранной Вами теме. Перед выполнением каждого из относящихся к перечню заданий укажите букву, которой обозначена выбранная тема. Указанные в заданиях буквы должны быть одинаковыми.

3

Выбранная тема: (укажите букву в перечне).

Прочитайте список слов и напишите слово, относящееся к выбранной Вами теме.

Сатрап, мумия, касты, циклоп, компас, этруски.

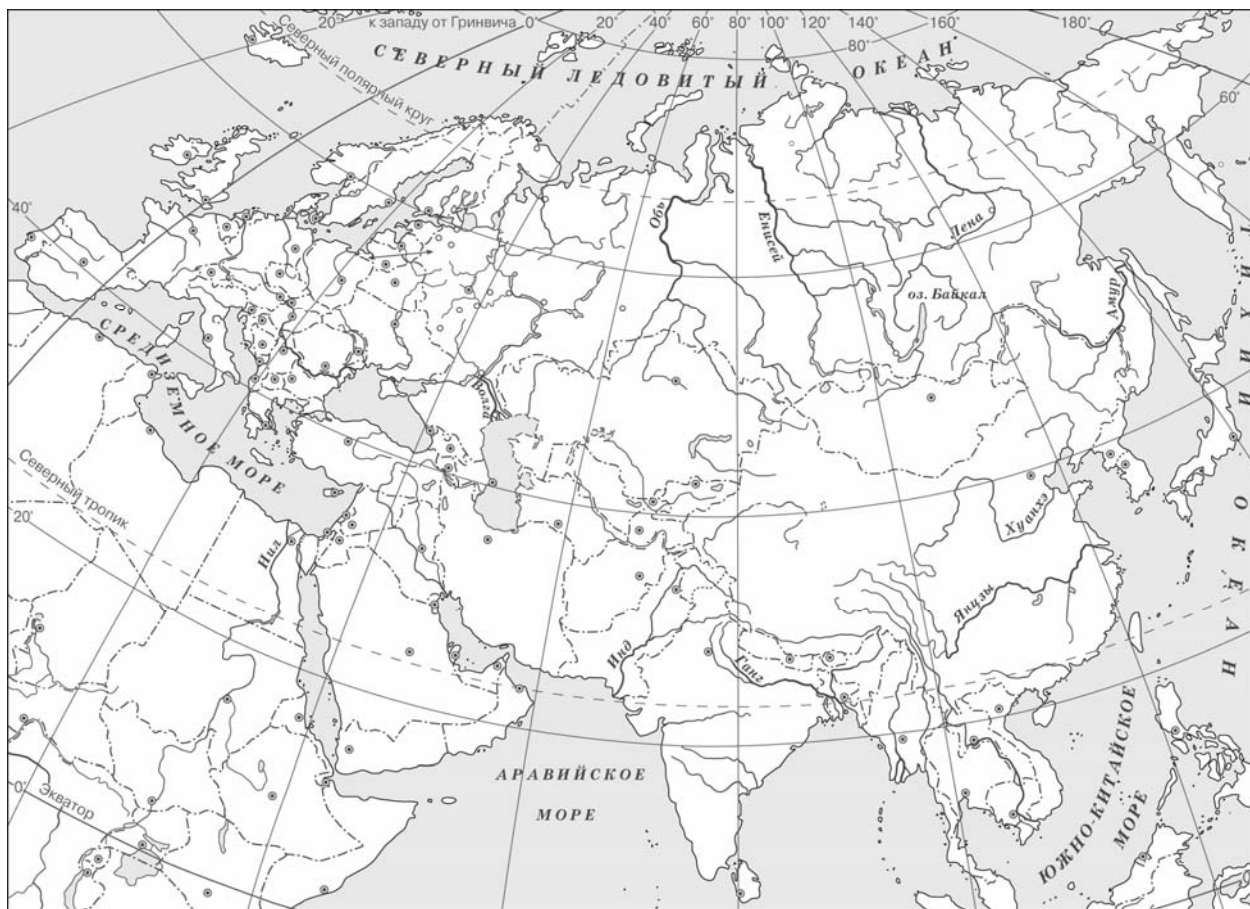
Ответ: _____

Объясните смысл этого слова.

Ответ: _____

5

Заштрихуйте на контурной карте один четырёхугольник, образованный градусной сеткой (параллелями и меридианами), в котором полностью или частично расположена страна, где существовала варна вайшьев.



6

Используя знания исторических фактов, объясните, как природно-климатические условия повлияли на занятия жителей страны, где существовала варна вайшьев.

Ответ: _____

Часть 2

7

Рассмотрите изображение и выполните задание.



Укажите год, когда произошло событие, юбилею которого посвящена данная почтовая марка. Объясните, почему событие, юбилею которого посвящена почтовая марка, сохраняется в памяти народной на протяжении многих десятилетий.

Ответ: _____
